

## मासिक प्रश्न-पत्र

विषय : गणित

माह : अप्रैल

कक्षा : I

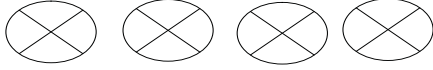
सेट : 1

1. चित्रों को गिनकर संख्या बताइए—

(i)




(ii)




2. ठीक पहले की संख्या बताइए—

	2
--	---

3. ठीक बाद की संख्या बताइए—

4	
---	--

4. बीच की संख्या बताइए—

2		4
---	--	---

--	--	--

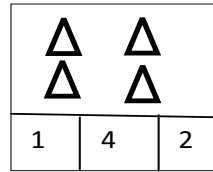
5. सबसे छोटी संख्या बताइए—

3	1	2	4
---	---	---	---

6. सबसे बड़ी संख्या बताइए—

3	2	5	1	4
---	---	---	---	---

7. दिये गये चित्रों को गिनिये तथा सही संख्या पहचानिये—



8. सही क्रम में बोलिए—

2	1	3	4	5
---	---	---	---	---


--	--	--	--	--

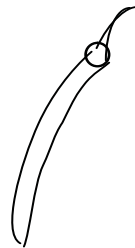
9. दिए गए दो चित्रों में से छोटे को पहचानिए—






10. दिए गए दो चित्रों में पतले को पहचानिए—





## मासिक प्रश्न-पत्र

विषय : गणित

माह : अप्रैल

कक्षा : I

सेट : 2

1. चित्रों को गिनकर संख्या बताइए—



2. ठीक पहले की संख्या बताइए— 

	3
--	---

3. ठीक बाद की संख्या बताइए— 

1	
---	--

4. बीच की संख्या बताइए— 

1		3
---	--	---

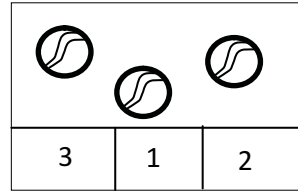
5. सबसे छोटी संख्या बताइए— 

4	2	1	3
---	---	---	---

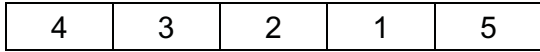
6. सबसे बड़ी संख्या बताइए— 

5	3	2	4
---	---	---	---

7. दिये गये चित्रों को गिनिये तथा सही संख्या पहचानिए—



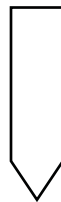
8. सही क्रम में बोलिए—



8. दिए गए दो चित्रों में से छोटे को पहचानिए—



9. दिए गए दो चित्रों में से पतले को पहचानिए—



## मासिक प्रश्न-पत्र

विषय : गणित

माह : मई

कक्षा : I

सेट : 1

1. चित्रों को गिनकर संख्या बताइये—

(i) ☆ ☆ ☆ ☆ ☆

(ii) ○ ○ ○ ○ ○ ○

2. 6 और 5 में कौन सी संख्या बड़ी है?

3. 1 से 10 तक की गिनती सुनाइये।

4. 7 के ठीक बाद कौन सी संख्या आयेगी ? बताइये।

7	
---	--

5. संख्याओं को सही क्रम में बताइये।

9	6	8	7
---	---	---	---

--	--	--	--

6. 6 से ठीक पहले कौन सी संख्या आयेगी ? बताइये।

	6
--	---

7. आपके पास 4 रुपये हैं। आपने 4 रुपये की एक पेंसिल खरीद ली। बताइये आपके पास अब कितने रुपये बचे ?

8. 8 और 10 के बीच कौन सी संख्या आयेगी ? बताइये।

9. 8 से छोटी कोई दो संख्या बताइये।

10. आपके कक्षा में 10 बच्चे हैं। उनमें से 3 बच्चे कक्षा में नहीं आये। बताइये कितने बच्चे कक्षा में आये ?

## मासिक प्रश्न-पत्र

विषय : गणित

माह : मई

कक्षा : I

सेट : 2

1. चित्रों को गिनकर संख्या बताइए—



2. 8 और 10 में से कौन-सी संख्या बड़ी है ?

3. 6 के ठीक बाद कौन सी संख्या आयेगी ?

4. 1 से 10 तक गिनती बोलिए । ।

5. आपके पास 2 पेंसिल है। आपने अपनी बहन को 2 पेंसिल दे दिया। बताइये आपके पास कितनी पेंसिलें बच गईं ?

6. 8 से ठीक पहले कौन सी संख्या आयेगी ?

7. संख्याओं को सही क्रम में बताइए।

7	6	8	5				
---	---	---	---	--	--	--	--

8. 6 और 7 के बीच कौन-सी संख्या आयेगी ?

9. मोहन के पास तीन कलमें हैं। उसने 1 कलम राधा को दे दिया । बताइये मोहन के पास कितनी कलम बच गईं ?

10. 9 से 1 तक गिनती बोलिए ।

## मासिक प्रश्न-पत्र



विषय : गणित

माह : जुलाई

कक्षा : I


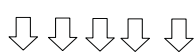
सेट : 1

1. मिलाकर गिनिए तथा संख्या बताइए-



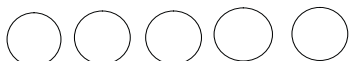
(i)  और  मिलाकर   
2      1        

(ii)  और  मिलाकर   
4      2        


2. गिनकर बताइए-

(i)          (ii)    

3. गिनकर सही अंको से मिलान कीजिए-

क	ख
(i) 	4
(ii) 	5
(iii) 	3

4. घटाव करके बताइए-

(i)  3 में से 3 घटाने पर कितना बचा -----

(ii)  6 में से 2 घटाने पर कितना बचा-----

5. जोड़कर बताइए-

7 +3 <span style="display: inline-block; border: 1px solid black; padding: 2px 10px;">  </span>	9 + 1 <span style="display: inline-block; border: 1px solid black; padding: 2px 10px;">  </span>
---	--

6. घटाकर बताइए-

9 - 7 <span style="display: inline-block; border: 1px solid black; padding: 2px 10px;">  </span>	10 - 6 <span style="display: inline-block; border: 1px solid black; padding: 2px 10px;">  </span>
--	---

7. समझकर बॉक्स में +(जोड़) या -(घटाव) का निशान लगाइए-

(i)  $3 \square 5 = 8$       (ii)  $82 \square = 6$

8. ग्यारह और आठ में से कौन बड़ा है?

9. आपके पास दस रुपये हैं, उनमें से चार रुपये आपने अपने भाई को दे दिए। आपके पास अब कितने रुपये बचेंगे ? बताइए।

10. दो बैल के कुल कितने पैर होंगे ?

## मासिक प्रश्न-पत्र

विषय : गणित




माह : जुलाई

कक्षा : I

सेट : 2

1. मिलाकर गिनिये तथा संख्या बताइए-




(i)  और  मिलाकर

(ii)   और   मिलाकर  


2. गिनकर बताइए-


(i)   (ii) 

3. गिनकर सही अंको से मिलान कीजिए-

	क		ख
(i)			4
(ii)			3
(iii)			2

4. घटाकर बताइए-

(i)  5 में से 4 घटाने पर कितना बचा ----

(ii)  2 में से 2 घटाने पर कितना बचा-----

5. जोड़कर बताइए-

8	6
+ 2	+ 3
<input type="text"/>	<input type="text"/>

6. घटाकर बताइए-

9	6
- 1	- 2
<input type="text"/>	<input type="text"/>

7. समझकर बॉक्स में + या - का निशान लगाइए-

(i)  $9 \square$  (ii)  $6 \square 1 = 5$

8. सात और नौ में कौन बड़ा है?

9. आपके पास पाँच कलमें हैं, उसमें से दो कलम आपने अपने मित्र को दे दिए। अब आपके पास कितने कलम बच गये ?

10. पाँच आम और छह आम मिलाकर कुल कितने आम होंगे ?

## मासिक प्रश्न-पत्र

विषय : गणित

माह : अगस्त

कक्षा : I

सेट : 1

1. ठीक पहले की संख्या बताइए-

(i) 

	16
--	----

 (ii) 

	10
--	----

2. ठीक बाद की संख्या बताइए-

(i) 

13	
----	--

 (ii) 

19	
----	--

3. सबसे छोटी संख्या पर गोल  $\bigcirc$  का निशान लगाइए-

(i) 

8	10	15	16
---	----	----	----

 (ii) 

20	11	16	12
----	----	----	----

4. सबसे बड़ी संख्या पर सही  $\sqrt{\quad}$  का चिह्न लगाइए-

(i) 

12	9	15	10
----	---	----	----

 (ii) 

10	13	17	18
----	----	----	----

5. दी गई संख्या से शुरू करते हुए उल्टी गिनती बोलिए-

(i) 

10										1
----	--	--	--	--	--	--	--	--	--	---

(ii) 

20										10
----	--	--	--	--	--	--	--	--	--	----

6. गोले में कौन सा चिह्न  $>$ ,  $<$ ,  $=$  भराएगा? बताइए-

(i)  $5 \bigcirc 6$  (ii)  $10 \bigcirc 10$  (iii)  $20 \bigcirc 15$

7. छोटे से बड़े क्रम में सजाइए-

(i) 9, 6, 5, 10, 8 

5				
---	--	--	--	--

8. बड़े से छोटे क्रम में सजाइए-

(i) 20, 18, 12, 5, 9 

20				
----	--	--	--	--

9. जोड़कर बताइए-

(i)  $7$   
 $+6$   

--

(ii)  $8$   
 $+1$   

--

10. घटाकर बताइए-

(i)  $10$   
 $-9$   

--

(ii)  $9$   
 $-2$   

--

## मासिक प्रश्न-पत्र

विषय : गणित

माह : अगस्त

कक्षा : I

सेट : 2

1. ठीक पहले की संख्या बताइए-

(i) 

	14
--	----

 (ii) 

	20
--	----

2. ठीक बाद की संख्या बताइए-

(i) 

16	
----	--

 (ii) 

21	
----	--

3. सबसे छोटी संख्या पर गोल का निशान लगाइए-

(i) 

7	10	13	6
---	----	----	---

 (ii) 

9	5	4	7
---	---	---	---

4. सबसे बड़ी संख्या पर सही  $\sqrt{\quad}$  का चिह्न लगाइए-

(i) 

14	19	20	18
----	----	----	----

 (ii) 

10	13	31	19
----	----	----	----

5. दी गई संख्या से शुरू करते हुए उल्टी गिनती बोलिए-

(i) 

15										5
----	--	--	--	--	--	--	--	--	--	---

(ii) 

11										1
----	--	--	--	--	--	--	--	--	--	---

6. गोले में कौन सा चिह्न  $>$ ,  $<$ ,  $=$  भराएगा? बताइए।

(i)  $9 \bigcirc 5$  (ii)  $13 \bigcirc 18$  (iii)  $15 \bigcirc 15$

7. छोटे से बड़े क्रम में सजाइए-

(i) 14, 5, 7, 10, 13 

5				
---	--	--	--	--

8. बड़े से छोटे क्रम में सजाइए-

(i) 7, 15, 9, 20, 14 

--	--	--	--	--

9. जोड़कर बताइए-

(i) 
$$\begin{array}{r} 4 \\ +9 \\ \hline \end{array}$$

--

 (ii) 
$$\begin{array}{r} 2 \\ +6 \\ \hline \end{array}$$

--

10. घटाकर बताइए-

(i) 
$$\begin{array}{r} 9 \\ -3 \\ \hline \end{array}$$

--

 (ii) 
$$\begin{array}{r} 7 \\ -1 \\ \hline \end{array}$$

--



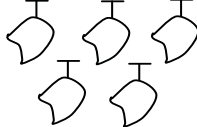

## अर्द्धवार्षिक प्रश्न-पत्र

विषय : गणित

माह : सितम्बर

कक्षा : I

सेट : 1

1. गिनकर संख्या बताइए— 5
  - (i)  (i) 
2. अलग-अलग तरीकों से 5 बनाने के लिए गोले में कौन-सी संख्या भरी जाएगी ? 5
  - (i)  $3 + \bigcirc = 5$       (ii)  $6 - \bigcirc = 5$
3. सबसे छोटी तथा सबसे बड़ी संख्या बताइए— 5

39	29	30	40	44
----	----	----	----	----

सबसे छोटी संख्या

सबसे बड़ी संख्या
4. 10 से 20 तक की गिनती बोलिए— 5
5. जोड़कर बताइए— 5
  - (i)  $\begin{array}{r} 8\ 2 \\ +1\ 3 \\ \hline \end{array}$  (ii)  $\begin{array}{r} 6\ 3 \\ +3\ 5 \\ \hline \end{array}$
6. मिलान कीजिए— 5
  - (i)  $5 + 2$   7      (ii)  $6 + 0$   9      (iii)  $8 + 1$   6
7. आपके विद्यालय के एक पेड़ पर 20 कौवे बैठे हुए थे। आपके एक मित्र ने पेड़ पर पत्थर का एक छोटा सा टुकड़ा फेंक दिया और सभी कौए उड़ गए। बताइये अब पेड़ पर कितने कौवे?बचे 5
8. दी गयी संख्या से उल्टी गिनती बोलिए। 5

15
11
9. संख्याओं को सही क्रम में सजाइए— 5

30	29	28	27	→				
----	----	----	----	---	--	--	--	--
10. बताइये गोले में कौन सी संख्या होगी ? 5
  - (i)  $10 - 5 = \bigcirc$       (ii)  $5 - 5 = \bigcirc$

## अर्द्धवार्षिक प्रश्न-पत्र

विषय : गणित


माह : सितम्बर


कक्षा : I

सेट : 2

1. गिनकर संख्या बताइए-

5

(i) 

(ii) 

2. सबसे छोटी तथा सबसे बड़ी संख्या बताइए-

5

30	35	32	28	24	29
----	----	----	----	----	----

सबसे छोटी संख्या

सबसे बड़ी संख्या

3. दस से उल्टी गिनती बोलिए-

5

10									
----	--	--	--	--	--	--	--	--	--

4. 18 और 5 को जोड़कर बताइए-

$$18 + 5 = \square$$

5. संख्याओं को बढ़ते क्रम में बोलिए-

5

31	29	30	33	32	→				
----	----	----	----	----	---	--	--	--	--

6. ठीक बाद की संख्या बताइए-

5

29		31		33	
----	--	----	--	----	--

7. आपके पास पाँच रुपये हैं, आपने अपनी बहन को चार रुपये दे दिये। बताइये अब आपके पास कितने रुपये बचे ?

5

8. 5 इकाई और 2 दहाई से कौन सी संख्या बनेगी ?

5

$$52 \square \text{ या } 25 \square$$

9. चिन्ह देखकर बताइये बाक्स में कौन सी संख्या होगी ?

5

$$(i) 15 + 5 = \square \quad (ii) 15 - 5 = \square$$

10 दी गयी संख्या से शुरू करते हुए आगे की गिनती बोलिए-

5

(i) 

8								15
---	--	--	--	--	--	--	--	----

 (ii) 

20								26
----	--	--	--	--	--	--	--	----

## अर्द्धवार्षिक प्रश्न-पत्र

विषय : गणित

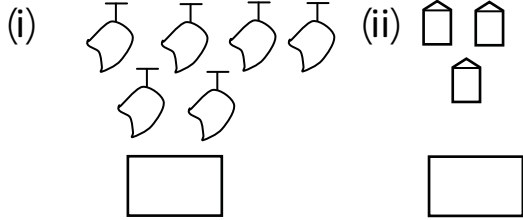
माह : सितम्बर

कक्षा : I

सेट : 3

1. गिनकर संख्या बताइए-

5



2. 20 से 30 तक की गिनती बोलिए-

5

3. गोले में कौन-सी संख्या भरी जाएगी ?

5

(i)  $4 + \bigcirc = 6$

(ii)  $3 + \bigcirc = 6$

4. संख्या 35 में इकाई और दहाई का अंक बताइये-

5

इकाई का अंक

दहाई का अंक

5. आपके विद्यालय में 20 गुलाब के पौधे हैं। उसमें से 5 पौधे सूख गए। बताइये अब कितने पौधे बचे।

5

6. आपकी माता ने आपको 12 केले खाने के लिए दिए। आपने उसमें से 6 केले खा गए। बताइये अब आपके पास कितने केले बचें।

5

7. 30 से 10 तक गिनती बोलिए।

5

8. सबसे बड़ी और सबसे छोटी संख्या बताइए।

5

31	36	30	29	21
----	----	----	----	----

सबसे छोटी संख्या

सबसे बड़ी संख्या

9. गुलाब के एक पौधे में गुलाब के दस फूल हैं। उसमें से 5 फूल टूट कर गिर गए। बताइये कितने फूल बचे ?

5

10. 10 और 8 को जोड़कर बताइए-

5

$$\begin{array}{r} 10 \\ + 8 \\ \hline \end{array}$$

## अर्द्धवार्षिक प्रश्न-पत्र

विषय : गणित

माह : सितम्बर

कक्षा : I

सेट : 4

1. जोड़कर बताइये— 5
  - (i)  $10 + 5 = \bigcirc$
  - (ii)  $8 + 7 = \bigcirc$
2. पहले तथा बाद की संख्या बताइए— 5

25 के ठीक पहले की संख्या बताइए

32 के ठीक बाद की संख्या बताइए
3. 15 से 9 तक की गिनती बोलिए— 5

15
9
4. आपके पास 10 रुपये हैं। आपके भाई ने आपको 10 रुपये दिये। बताइये आपके पास अब कितने रुपये हो गए ? 5
5. एक घोड़ा और एक बकरी के कुल कितने पैर होंगे ? 5
6. संख्या 40 में इकाई और दहाई के अंक बताइये। 5
7. संख्या 39 में अंक 3 कौन से स्थान पर हैं 5
8. संख्याओं को बढ़ते क्रम में बोलिए। 5

16	15	14	13
----	----	----	----
9. 20 से 40 तक की गिनती बोलिए— 5
10. घटा कर बताइए— 5

8	6
-2	-1
<input style="width: 40px; height: 20px;" type="text"/>	<input style="width: 40px; height: 20px;" type="text"/>

## अर्द्धवार्षिक प्रश्न-पत्र

विषय : गणित

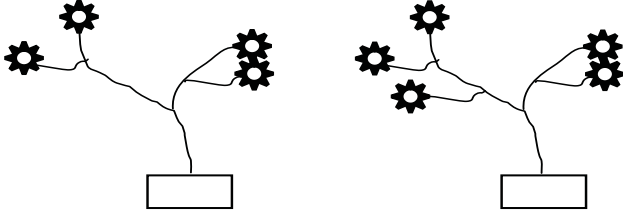
माह : सितम्बर

कक्षा : I

सेट : 5

1. फूलों को गिनकर लिखिए—

5



2. ठीक पहले तथा ठीक बाद की संख्या बगल के बॉक्स में भरिए।

5

20 के ठीक पहले की संख्या बताइए।

32 के ठीक बाद की संख्या बताइए।

3. नीचे की संख्याओं में से सबसे बड़ी और सबसे छोटी संख्या बताइए—

5

11	14	27	13	29
----	----	----	----	----

सबसे छोटी संख्या

सबसे बड़ी संख्या

4. हल कीजिए तथा बताइए—

5

(i)  $2 + 0$        (ii)  $5 + 5$        (iii)  $8 - 3$

5. 20 से शुरू करते हुए आगे की गिनती बोलिए—

5

20							
----	--	--	--	--	--	--	--

6.  $>$  या  $<$  का चिह्न भरिए—

5

(i)  $8$    $6$       (ii)  $3$    $7$

7. दी गई संख्याओं को क्रम से बोलिए—

5

17, 16, 12, 13, 15, 14, 18, 19

12							
----	--	--	--	--	--	--	--

8. जोड़िए—

5

$$\begin{array}{r} 8 \\ +6 \\ \hline \end{array}$$

$$\begin{array}{r} 9 \\ +5 \\ \hline \end{array}$$

9. घटाइए—

5

(i) 
$$\begin{array}{r} 8 \\ -3 \\ \hline \end{array}$$

(ii) 
$$\begin{array}{r} 9 \\ -0 \\ \hline \end{array}$$

10. दो बकरियों के कुल कितने पैर होंगे ?

5

## मासिक प्रश्न-पत्र

विषय : गणित

माह : अक्टूबर

कक्षा : I

सेट : 1

1. गिनिए तथा सही संख्या पर ○ लगाइए-



14	24	25
----	----	----

2. बीच की संख्या भरिए :-

(i) 

25		27
----	--	----

      (ii) 

29		31
----	--	----

3. दी गई संख्या को घटते/बढ़ते क्रम में सजाइए-

(i) 27, 25, 21, 19

बढ़ते क्रम      ↑ 

--	--	--	--

(ii) 26, 23, 30, 17

घटते क्रम      ↓ 

--	--	--	--

4. रेखांकित अंको के स्थानीय मान बताइए-

(i) 17-----      (ii) 32-----

5. सही संख्या की पहचान कीजिए-

(i) 3 दहाई 2 इकाई = 

32
----

23
----

(ii) 2 दहाई 6 इकाई = 

62
----

26
----

6. ठीक पहले की संख्या लिखिए-

(i) 

	40
--	----

      (ii) 

	21
--	----

7. ठीक बाद की संख्या लिखिए-

39	
----	--

      (ii) 

20	
----	--

      (i)

8. गोले ○ में सही चिह्न >, < भरिए ?

(i) 26 ○ 21

(ii) 25 ○ 29

9. जोड़िए-

(i) 15

+ 4

--

(ii) 23

+ 03

--

10. घटाइए-

(i) 17

- 7

--

(ii) 20

- 10

--

## मासिक प्रश्न-पत्र

विषय : गणित

माह : अक्टूबर

कक्षा : I

सेट : 2

1. गिनिए तथा सही संख्या पर  लगाइए-



12	22	32
----	----	----

2. बीच की संख्या बताइए-

(i)	36		38	(ii)	18		20
-----	----	--	----	------	----	--	----

3. दी गई संख्या को घटते/बढ़ते क्रम में सजाइए-

(i) 17, 29, 21, 14

बढ़ते क्रम  $\uparrow$ 

--	--	--	--

(ii) 33, 17, 42, 29

घटते क्रम  $\downarrow$ 

--	--	--	--

4. रेखांकित अंको के स्थानीय मान लिखिए-

(i) 26----- (ii) 47-----

5. समझकर सही संख्या पर  लगाइए-

(i) 2 दहाई 8 इकाई = 

28	82
----	----

(ii) 6 दहाई 9 इकाई = 

96	69
----	----

6. ठीक पहले की संख्या बताइए-

(i) 

	36
--	----

 (ii) 

	50
--	----

7. ठीक बाद की संख्या बताइए-

(i) 

30	
----	--

 (ii) 

45	
----	--

8. गोले में  कौन सा चिह्न  $>$ ,  $<$  होगा ?

(i) 29  27 (ii) 36  38

9. जोड़िए-

(i)  $49 + 10 =$ 

--

 (ii)  $34 + 13 =$ 

--

10. घटाइए-

(i) 12 में से 7 (ii) 13 में से 5

## मासिक प्रश्न-पत्र

विषय : गणित

माह : नवम्बर

कक्षा : I

सेट : 1

1. दहाई तथा इकाई का अंक बताइए—

(i) 52

इकाई का अंक  , दहाई का अंक

(ii) 30

इकाई का अंक  , दहाई का अंक

2. सबसे छोटी तथा सबसे बड़ी संख्या बोलकर बताइए—

30	39	32	40
----	----	----	----

3. दी गयी संख्याओं को बढ़ते क्रम में सजाइए—

(38)    (40)    (39)

बढ़ता क्रम 

--	--	--

4. दी गयी संख्याओं को घटते क्रम में सजाइए—

(12)    (18)    (16)

घटता क्रम 

--	--	--

5. संख्या बनाकर बोलिए—

(i) 4 दहाई 0 इकाई

(ii) 3 दहाई 1 इकाई

6. जोड़िए—

(i) 
$$\begin{array}{r} 81 \\ +20 \\ \hline \end{array}$$

(ii) 
$$\begin{array}{r} 96 \\ +11 \\ \hline \end{array}$$

7. घटाकर बताइए—

(i) 
$$\begin{array}{r} 75 \\ -60 \\ \hline \end{array}$$

(ii) 
$$\begin{array}{r} 55 \\ -55 \\ \hline \end{array}$$

8. मिलान कीजिए—

30 + 5
--------

(50)

42 + 8
--------

(35)

9. संख्याओं को सही क्रम में सजाइए—

38	40	39	41	→	↑	38			
----	----	----	----	---	---	----	--	--	--

10. आपके पास 50 आम हैं, आपने उसमें 40 आम अपनी बहन को दे दिया। बताइये अब आपके पास कितने आम बचे ?



## मासिक प्रश्न-पत्र

विषय : गणित

माह : नवम्बर

कक्षा : I

सेट : 2

1. दहाई तथा इकाई का अंक भरिए :-

(i) 49 इकाई का अंक , दहाई का अंक

(ii) 70 इकाई का अंक , दहाई का अंक

2. इनमें सबसे छोटी तथा सबसे बड़ी संख्या बोलकर बताइए-

39	45	62	50
----	----	----	----

3. नचे दी गयी संख्याओं को घटते क्रम में सजाइए-

(39)      (32)      (36)

बढ़ता क्रम 

--	--	--

4. दी गयी संख्याओं को बढ़ते क्रम में सजाइए-

(43)      (42)      (44)

घटता क्रम 

--	--	--

5. घटाइए-

(i)  $\begin{array}{r} 82 \\ - 82 \\ \hline \end{array}$

(ii)  $\begin{array}{r} 90 \\ - 10 \\ \hline \end{array}$

6. जोड़िए-

(i)  $\begin{array}{r} 80 \\ + 69 \\ \hline \end{array}$

(ii)  $\begin{array}{r} 08 \\ + 80 \\ \hline \end{array}$

7. ठीक बाद वाली संख्या बताइए-

45		47		49	
----	--	----	--	----	--

8. रेखांकित अंक का स्थानीय मान बताइए-

(i) 38 -----      (ii) 42 .....

9. बॉक्स में समझकर भरिए-

(i)  $\langle \bigcirc \rangle 20$       (ii)  $\bigcirc \rangle 30$

10. आपकी कक्षा में सोमवार को 45 विद्यार्थी आए। उसमें से 5 विद्यार्थी मध्याह्न भोजन के बाद छुट्टी लेकर घर चले गए। बताइये कितने विद्यार्थी कक्षा में बच गये ?

## मासिक प्रश्न-पत्र

विषय : गणित

माह : जनवरी

कक्षा : I

सेट : 1

1 दहाई तथा इकाई गिनकर बताएँ—



2 बढ़ते क्रम को पूरा कीजिए—

(क) 

	42		44
--	----	--	----

 (ख) 

32			35
----	--	--	----

3. सबसे छोटी संख्या पर घेरा लगाइए—

(क) 

32	42	54	44
----	----	----	----

 (ख) 

26	45	13	55
----	----	----	----

4. नीचे दी गयी संख्याओं को सही क्रम में सजाइए—

(क) 18 15 17 16 (ख) 36 35 33 34

5. सही संख्या क्या होगा :-

(क) 3 दहाई 5 इकाई                      35      53

(ख) 8 दहाई 7 इकाई                      78      87

6. जोड़कर बॉक्स में भरिए

(क)  $6+7 = \square$  (ख)  $9+7 = \square$  (ग)  $8+7 = \square$  (घ)  $7+7 = \square$

7. घटाकर बताए :-

(क)  $9-7 = \square$  (ख)  $8-4 = \square$  (ग)  $8-6 = \square$  (घ)  $6-3 = \square$

8. 5 सेव में से 2 सेव सड़ जाने पर कितने सेव बचेंगे ?

9. 8 कलम और 7 कलम मिलाने पर कितना होगा ?

10. जोड़कर लिखिए—

12	15	13	14
+ 12	+ 11	+ 10	+ 11
<span style="border: 1px solid black; display: inline-block; width: 40px; height: 20px;"></span>	<span style="border: 1px solid black; display: inline-block; width: 40px; height: 20px;"></span>	<span style="border: 1px solid black; display: inline-block; width: 40px; height: 20px;"></span>	<span style="border: 1px solid black; display: inline-block; width: 40px; height: 20px;"></span>

## मासिक प्रश्न-पत्र

विषय : गणित

माह : जनवरी

कक्षा : I

सेट : 2

1 मिलान कीजिए-

$4+8 \quad \dots \quad 14$

$6+8 \quad \dots \quad 12$

$5+4 \quad \dots \quad 8$

$4+4 \quad \dots \quad 9$

2 समझकर बॉक्स में भरिए-

(क) 

12			9
----	--	--	---

 (ख) 

	14		12
--	----	--	----

3. बाक्स में दी गयी संख्याओं में सबसे बड़ी को घेरिए-

(क) 

34	24	54	44
----	----	----	----

 (ख) 

26	46	36	66
----	----	----	----

4. दी गयी संख्या को बढ़ते क्रम में सजाइए-

(क) 25 22 24 23 (ख) 42 45 43 44

5. सही संख्या बताइए-

(क) 4 दहाई 5 इकाई = 35 | 45 (ख) 6 दहाई 7 इकाई = 76 | 67

6. जोड़कर बताए :-

(क)  $8+7 = \square$  (ख)  $6+8 = \square$  (ग)  $7+7 = \square$  (घ)  $5+7 = \square$

7. घटाइए और लिखिए-

(क)  $8-7 = \square$  (ख)  $7-4 = \square$  (ग)  $6-6 = \square$  (घ)  $9-5 = \square$

8 9 आम में से 3 आम सड़ जाने पर कितने आम बचेंगे ?

9.. 11 कापी और 7 कापी मिलाने पर कितना होगा ?

10. जोड़िए :

13	18	16	15
+ 14	+ 11	+ 10	+ 12
$\square$	$\square$	$\square$	$\square$

## मासिक प्रश्न-पत्र


विषय : गणित

माह : फरवरी

कक्षा : I

सेट : 1

1. बड़े चित्र पर (✓) निशान लगाइए-



2. हल्की वस्तु पर (✓) निशान लगाइए-



3. जोड़कर लिखिए-



4. अगला चित्र बनाइए-



5. 8 रुपये में 2 रुपये के 3 सिक्कों के साथ 1 रुपये के कितने सिक्के होंगे-

6. जोड़िए -

(क) 16	(ख) 16	(ग) 10	(घ) 15
+ 12	+ 10	+ 10	+ 13
<input type="text"/>	<input type="text"/>	<input type="text"/>	<input type="text"/>

7. घटाइए -

(क) 13	(ख) 14	(ग) 12	(घ) 17
- 12	- 11	- 10	- 13
<input type="text"/>	<input type="text"/>	<input type="text"/>	<input type="text"/>

8. 5 कलम और 8 कलम मिलाने पर कितना होगा ?

9. 12 लीचियों में से 7 लीची के सड़ जाने पर कितनी लीचियाँ ठीक रहेंगी ?

10. 13 कॉपियों और 8 कॉपियों को मिलाकर गिनने पर कितनी कॉपियाँ होंगी ?

## मासिक प्रश्न-पत्र

विषय : गणित

माह : फरवरी

कक्षा : I

सेट : 2


1. छोटे चित्र के नीचे  $\checkmark$  का निशान लगाइए-



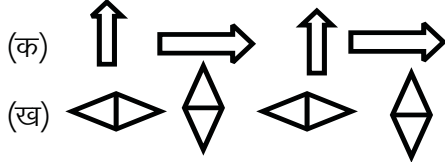
2. भारी वस्तुओं के नीचे  $\checkmark$  का निशान लगाइए-



3. घटाकर बताएँ:-



4. पैटर्न समझकर आगे के दो चित्र बनाइए-



5. नीचे के रूपये बनाने के लिए कितने - कितने सिक्के लेने पड़ेंगे।

(क) 4 रूपया  $\Rightarrow$

(ख) 9 रूपया  $\Rightarrow$

6. जोड़कर बताइए-

(क) 15	(ख) 11	(ग) 12	(घ) 13
+ 12	+ 10	+ 10	+ 13
<input type="text"/>	<input type="text"/>	<input type="text"/>	<input type="text"/>

7. घटाकर बताइए-

(क) 14	(ख) 13	(ग) 14	(घ) 15
- 11	- 10	- 12	- 10
<input type="text"/>	<input type="text"/>	<input type="text"/>	<input type="text"/>

8. 10 कलमों और 7 कलमों को मिलाकर गिनने पर कितनी कलमों होंगी ?

9. 13 सेब में से 7 सेब सड़ जाने पर कितने सेब ठीक बचेंगे ?

10. 17 पेंसिलें और 5 पेंसिलें मिलाने पर कितनी पेंसिलें होंगी ?

# वार्षिक मूल्यांकन

विषय : गणित

माह : मार्च

कक्षा : I

सेट : 1

1. गिनकर सही संख्या लिखिए—

5



2. सही मिलान कीजिए :

5



7



5



3



4

3. खाली बक्सों भरिए :-

5

	22		24		26		28		30
31		33		35			38		

4. संख्याओं को बढ़ते क्रम में लिखिए—

5

45	42	44	43
----	----	----	----

--	--	--	--

74	76	75	77
----	----	----	----

--	--	--	--

5. सबसे छोटी संख्या  में तथा सबसे बड़ी संख्या

5

(i) 

22	46	31	44
----	----	----	----

(ii) 

28	51	54	27
----	----	----	----

सबसे छोटी संख्या



सबसे छोटी संख्या



सबसे बड़ी संख्या



सबसे बड़ी संख्या



6. पैटर्न समझकर आगे के दो चित्र बनाइए—

5



7. जोड़िए

10

(i)  $33 + 24$

(ii)  $43 + 55$

(iii)  $46 + 53$

(iv)  $29 + 20$

(v)  $44 + 44$

8. घटाइए—

10

(i)  $37 - 24$

(ii)  $48 - 35$

(iii)  $45 - 43$

(iv)  $69 - 20$

(v)  $44 - 44$

## वार्षिक मूल्यांकन

विषय : गणित

माह : मार्च

कक्षा : I

सेट : 2

1. गिनकर सही संख्या लिखिए—

5






2. सही मिलान कीजिए :-

5



4

2

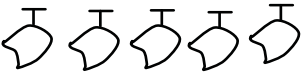


1

8



3



5

3. सही संख्या पर घेरा  लगायें :-

5

(i) 5 दहाई 6 इकाई = 65 56      (ii) 6 दहाई 3 इकाई = 63 36

(iii) 3 दहाई 6 इकाई = 63 36      (iv) 7 दहाई 2 इकाई = 27 72

4. संख्याओं को घटते क्रम में लिखें :-

5

35	32	34	33
----	----	----	----

--	--	--	--

60	62	63	61
----	----	----	----

--	--	--	--

5. सबसे छोटी संख्या  में तथा सबसे बड़ी संख्या  में लिखें :-

5

(i) 

49	56	26	44
----	----	----	----

(ii) 

23	27	49	31
----	----	----	----

सबसे छोटी संख्या   
सबसे बड़ी संख्या

सबसे छोटी संख्या   
सबसे बड़ी संख्या

6. पैटर्न समझकर आगे के दो चित्र बनाइए :-

5

(क) .....      .....

(ख) .....      .....

(ग)  $+$   $\times$   $+$  ..... ..

(घ)  $\triangleleft$   $\triangle$   $\triangleleft$   $\triangle$  ..... ..

7. जोड़िए—

10

(i)	9	(ii)	9	(iii)	8	(iv)	10	(v)	14
	+ 8		+ 9		+ 8		+ 3		+ 4
	<input type="text"/>		<input type="text"/>		<input type="text"/>		<input type="text"/>		<input type="text"/>

8. घटाइए—

10

(i)	7	(ii)	8	(iii)	45	(iv)	69	(v)	44
	- 4		- 5		-43		-20		-44
	<input type="text"/>		<input type="text"/>		<input type="text"/>		<input type="text"/>		<input type="text"/>

## वार्षिक मूल्यांकन

विषय : गणित



माह : मार्च

कक्षा : I

सेट : 3

1. गिनकर सही संख्या लिखिए—

5



2. मिलान कीजिए—

5

(i)	$2 + 0$	<input type="text" value="4"/>
(ii)	$5 + 5$	<input type="text" value="2"/>
(iii)	$8 - 3$	<input type="text" value="10"/>
(iv)	$9 - 5$	<input type="text" value="5"/>



3. संख्या बनाकर लिखें :-

5

(i) 4 दहाई 6 इकाई =

(ii) 2 दहाई 3 इकाई =

(iii) 8 दहाई 5 इकाई =

(iv) 6 दहाई 2 इकाई =

5. सबसे छोटी संख्या  $\bigcirc$  में तथा सबसे बड़ी संख्या  $\square$  में लिखें :-

5

(i) 

49	32	66	44
----	----	----	----

(ii) 

23	77	19	31
----	----	----	----

सबसे छोटी संख्या  $\bigcirc$   
सबसे बड़ी संख्या  $\square$

सबसे छोटी संख्या  $\bigcirc$   
सबसे बड़ी संख्या  $\square$

6. पैटर्न समझकर आगे के दो चित्र बनाएँ:-

10

(क)  $\equiv \neq \equiv \neq$  ..... ..

(ख)  $\diamond \blacklozenge \diamond \blacklozenge$  ..... ..

(ग)  $\times + \times +$  ..... ..

(घ)  $\div \times \div \times$  ..... ..

7. जोड़िए-

10

(i)  $\begin{array}{r} 12 \\ + 7 \\ \hline \square \end{array}$

(ii)  $\begin{array}{r} 15 \\ + 4 \\ \hline \square \end{array}$

(iii)  $\begin{array}{r} 12 \\ + 8 \\ \hline \square \end{array}$

(iv)  $\begin{array}{r} 14 \\ + 4 \\ \hline \square \end{array}$

(v)  $\begin{array}{r} 15 \\ + 5 \\ \hline \square \end{array}$

8. घटाइए-

10

(i)  $\begin{array}{r} 10 \\ - 4 \\ \hline \square \end{array}$

(ii)  $\begin{array}{r} 13 \\ - 13 \\ \hline \square \end{array}$

(iii)  $\begin{array}{r} 12 \\ - 15 \\ \hline \square \end{array}$

(iv)  $\begin{array}{r} 14 \\ - 22 \\ \hline \square \end{array}$

(v)  $\begin{array}{r} 15 \\ - 3 \\ \hline \square \end{array}$

## वार्षिक मूल्यांकन

विषय : गणित



माह : मार्च

कक्षा : I

सेट : 4

1. गिनकर सही संख्या लिखिए—

5



2. मिलान कीजिए—

5

- |       |          |                                 |
|-------|----------|---------------------------------|
| (i)   | $9 + 26$ | <input type="text" value="4"/>  |
| (ii)  | $8 + 6$  | <input type="text" value="35"/> |
| (iii) | $9 - 3$  | <input type="text" value="14"/> |
| (iv)  | $7 - 3$  | <input type="text" value="6"/>  |

3. सही संख्या  निशान लगाइए :-

5

- |       |        |        |   |    |    |
|-------|--------|--------|---|----|----|
| (i)   | 4 दहाई | 5 इकाई | = | 54 | 45 |
| (ii)  | 2 दहाई | 7 इकाई | = | 72 | 27 |
| (iii) | 8 दहाई | 5 इकाई | = | 85 | 58 |
| (iv)  | 6 दहाई | 2 इकाई | = | 26 | 62 |

4. सबसे छोटी संख्या  में तथा सबसे बड़ी संख्या  में लिखिए—

5

- |     |    |    |    |    |
|-----|----|----|----|----|
| (i) | 49 | 22 | 32 | 44 |
|-----|----|----|----|----|
- |      |    |    |    |    |
|------|----|----|----|----|
| (ii) | 13 | 17 | 19 | 31 |
|------|----|----|----|----|


सबसे छोटी संख्या   
सबसे बड़ी संख्या

सबसे छोटी संख्या   
सबसे बड़ी संख्या

5. पैटर्न समझकर आगे के दो चित्र बनाइए—

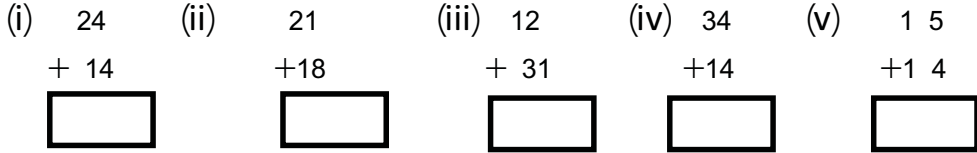
5

(क)  $\rightarrow \uparrow \rightarrow \uparrow$  .....

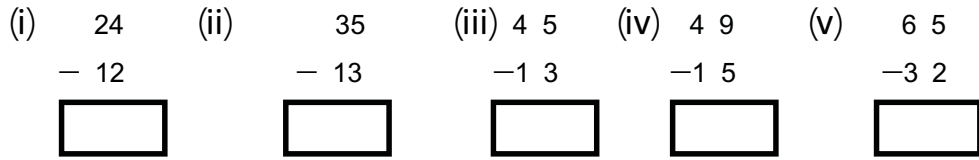


6. जोड़िए-

10



7. घटाइए-



### वार्षिक मूल्यांकन

विषय : गणित

माह : मार्च

कक्षा : I


सेट : 5

1. गिनकर सही संख्या लिखिए-

5



2. नीचे दिये गये चित्रों को जोड़ने या घटाने पर जो संख्या मिलेगा उससे दी गई ओ से सही मिलान



3. दहाई तथा इकाई का अंक बाक्स में लिखें :-

5

(i) 59 इकाई का अंक  , दहाई का अंक

(ii) 74 इकाई का अंक  , दहाई का अंक

4. सिक्को को मिलाने पर कितने रूपये होंगे-

5

(क)  = .....रूपये

(ख)  = .....रूपये

1. खाली बक्स को सही संख्या को लिखें :-

5

41		43			46		48		50
51			54			57		59	



2. पैटर्न समझकर आगे के दो चित्र बनाएँ:-

5

(i) 'AB A B -----

(ii) 3 4 3 4.....

(iii)  .....

(iv)  .....

3. जोड़े :-

10

(i)  $\begin{array}{r} 53 \\ +24 \\ \hline \end{array}$  (ii)  $\begin{array}{r} 83 \\ +15 \\ \hline \end{array}$  (iii)  $\begin{array}{r} 36 \\ +53 \\ \hline \end{array}$  (iv)  $\begin{array}{r} 26 \\ +23 \\ \hline \end{array}$  (v)  $\begin{array}{r} 46 \\ +43 \\ \hline \end{array}$

4. घटायें :-

10

(i)  $\begin{array}{r} 96 \\ -24 \\ \hline \end{array}$  (ii)  $\begin{array}{r} 68 \\ -35 \\ \hline \end{array}$  (iii)  $\begin{array}{r} 95 \\ -43 \\ \hline \end{array}$  (iv)  $\begin{array}{r} 99 \\ -20 \\ \hline \end{array}$  (v)  $\begin{array}{r} 94 \\ -64 \\ \hline \end{array}$

## वार्षिक मूल्यांकन

विषय : गणित

माह : मार्च

कक्षा : I

सेट : 6

1. संख्याओं को अंगुलीकट की मदद से जोड़कर  लिखिए— 5

(i)  $10 + 5 = \text{○}$

(ii)  $8 + 7 = \text{○}$

(iii)  $7 + 6 = \text{○}$

(iv)  $8 + 8 = \text{○}$

2. दहाई तथा इकाई अंकों को बाक्स में लिखिए— 5

(i) 59 में

इकाई का अंक  , दहाई का अंक

(i) 74 में

इकाई का अंक  , दहाई का अंक

3. सिक्को को मिलाने पर कितना रूपया होगा :- 5

(क)   = .....रूपया

(ख)   = .....रूपया

4. खाली बाक्स में सही संख्या को लिखें :- 5

20			23			26			29
----	--	--	----	--	--	----	--	--	----

61		63		65		67		69	
----	--	----	--	----	--	----	--	----	--

5. सबसे छोटी संख्या  में तथा सबसे बड़ी संख्या  में लिखें :- 5

(i) 

26	52	21	33
----	----	----	----

 (ii) 

37	66	64	77
----	----	----	----

सबसे छोटी संख्या   
सबसे बड़ी संख्या


सबसे छोटी संख्या   
सबसे बड़ी संख्या

6. पैटर्न समझकर आगे के दो चित्र बनाएँ:-

5

(i) W M W M -----

(ii) E 4 E 4.....

(iii)  .....

(iv)  .....

7. जोड़े :-

10

(i)  $\begin{array}{r} 63 \\ + 24 \\ \hline \end{array}$  (ii)  $\begin{array}{r} 73 \\ + 12 \\ \hline \end{array}$  (iii)  $\begin{array}{r} 46 \\ + 52 \\ \hline \end{array}$  (iv)  $\begin{array}{r} 46 \\ + 22 \\ \hline \end{array}$  (v)  $\begin{array}{r} 36 \\ + 42 \\ \hline \end{array}$

8. घटायें :-

10

(i)  $\begin{array}{r} 46 \\ - 24 \\ \hline \end{array}$  (ii)  $\begin{array}{r} 67 \\ - 35 \\ \hline \end{array}$  (iii)  $\begin{array}{r} 48 \\ - 43 \\ \hline \end{array}$  (iv)  $\begin{array}{r} 78 \\ - 20 \\ \hline \end{array}$  (v)  $\begin{array}{r} 66 \\ - 64 \\ \hline \end{array}$

### वार्षिक मूल्यांकन

विषय : गणित

माह : मार्च

कक्षा : I

सेट : 7

1. नीचे दिये गये चित्रों को गिनकर बक्स में लिखें :-

5

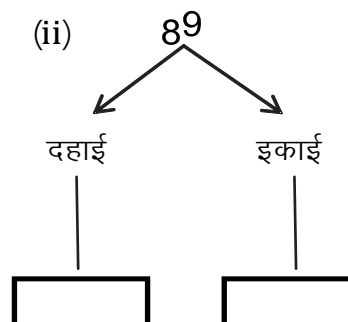
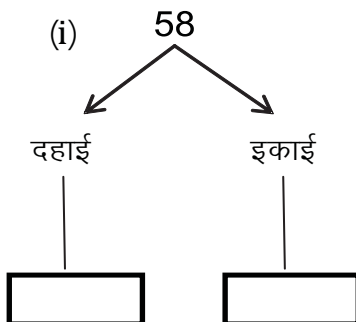
 +  =

 +  =

 +  =

2. समझे तथा लिखें :-

5



3. मिलान करें :-

5

- |               |                                 |
|---------------|---------------------------------|
| (i) $22+5$    | <input type="text" value="54"/> |
| (ii) $18-15$  | <input type="text" value="14"/> |
| (iii) $32+22$ | <input type="text" value="3"/>  |
| (iv) $27-13$  | <input type="text" value="27"/> |

4. दी गई संख्या को घटते/बढ़ते क्रम में सजाएँ :-

5

(i) 26, 27, 21, 19

बढ़ते क्रम  $\uparrow$

(ii) 23, 23, 32, 27

घटते क्रम  $\downarrow$

5. पैटर्न समझकर आगे का चित्र बनाएँ :-

5

(i) 1 2 3 4 -----

(ii) A B C D -----

(iii)  -----

7. जोड़े :-

10

- |                      |                      |                      |                      |                      |
|----------------------|----------------------|----------------------|----------------------|----------------------|
| (i) $5 \ 2$          | (ii) $6 \ 4$         | (iii) $6 \ 6$        | (iv) $8 \ 6$         | (v) $4 \ 6$          |
| $+ \ 2 \ 4$          | $+1 \ 2$             | $+5 \ 2$             | $+2 \ 2$             | $+4 \ 2$             |
| <input type="text"/> | <input type="text"/> | <input type="text"/> | <input type="text"/> | <input type="text"/> |

8. घटायेँ :-

10

- |                      |                      |                      |                      |                      |
|----------------------|----------------------|----------------------|----------------------|----------------------|
| (i) $9 \ 6$          | (ii) $6 \ 7$         | (iii) $8 \ 8$        | (iv) $9 \ 9$         | (v) $7 \ 6$          |
| $- \ 2 \ 4$          | $-3 \ 5$             | $-4 \ 3$             | $-2 \ 7$             | $-6 \ 5$             |
| <input type="text"/> | <input type="text"/> | <input type="text"/> | <input type="text"/> | <input type="text"/> |

## वार्षिक मूल्यांकन

विषय : गणित


माह : मार्च

कक्षा : I

सेट : 8

1. चित्रों को गिनकर सही संख्या  में लिखिए—

5



2. सही संख्या पर  लगाइए :-

5

(i) 7 दहाई 5 इकाई = 57 75

(ii) 6 दहाई 4 इकाई = 64 46

(iii) 3 दहाई 0 इकाई = 30 03

(iv) 9 दहाई 2 इकाई = 29 92

3. दी गई संख्या से उल्टी गिनती लिखें :-

5

8

9

11

16

3. मिलान कीजिए—

5

(i) 12 + 2

12

(ii) 11 + 6

5

(iii) 8 - 3

17

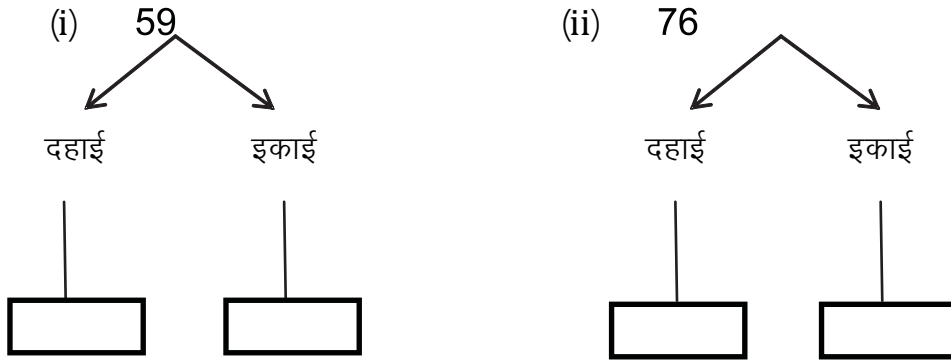
(iv) 15 - 3

14



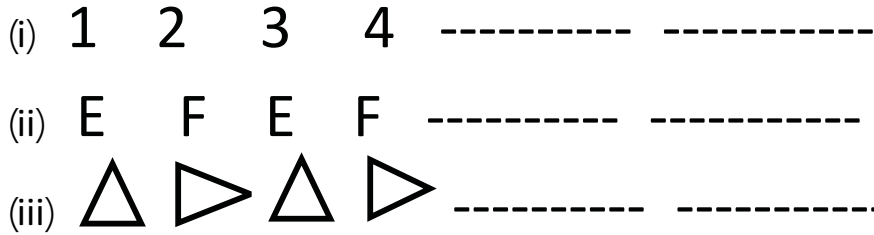
5. समझिए और बॉक्स में भरिए—

5



6. पैटर्न समझकर आगे का चित्र बनाइए :-

10



7. जोड़िए—

10

(i)  $74$       (ii)  $78$       (iii)  $66$       (iv)  $75$       (v)  $56$   
 $+ 24$        $+ 21$        $+ 33$        $+ 24$        $+ 52$   
                       

8. घटाइए :-

10

(i)  $98$       (ii)  $67$       (iii)  $88$       (iv)  $99$       (v)  $76$   
 $- 35$        $- 55$        $- 66$        $- 75$        $- 56$

## वार्षिक मूल्यांकन

विषय : गणित



माह : मार्च

कक्षा : I

सेट : 9

1. गिनकर सही संख्या  में लिखिए।

5



2. नीचे लिखे चित्रों को गिनकर सामने दी गई संख्या से मिलान कीजिए—


5



7



6



9

3. दी गई संख्या को घटते/बढ़ते क्रम में सजाइए :-

5

(i) 36, 37, 31, 13

बढ़ते क्रम  $\uparrow$

(ii) 13, 31, 32, 27

घटते क्रम  $\downarrow$

4. सही संख्या लिखिए—

5

(i) 6 दहाई 5 इकाई =

(ii) 5 दहाई 9 इकाई =

(iii) 3 दहाई 5 इकाई =

(iv) 7 दहाई 6 इकाई =

5. खाली बॉक्स में सही संख्या को लिखिए—

5

20			23			26			29
61		63		65		67		69	

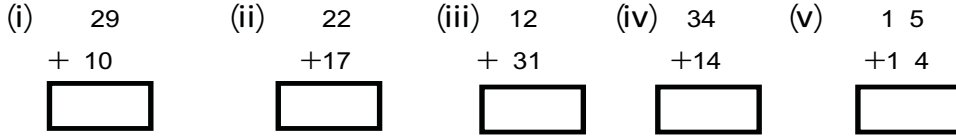
6. पैटर्न समझकर आगे के दो चित्र बनाइए :-

5



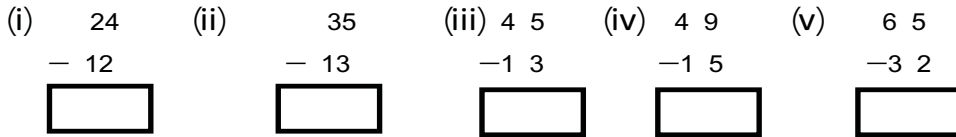
7. जोड़िए :-

10



8. घटाइए :-

10



### वार्षिक मूल्यांकन

विषय : गणित

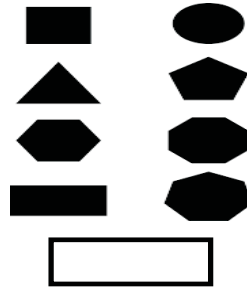
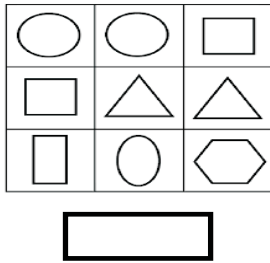
माह : मार्च


कक्षा : I

सेट : 10

1. गिनकर सही संख्या  लिखिए—

5




2. सही संख्या को  घेरिए :-

5

- |                     |   |    |    |
|---------------------|---|----|----|
| (i) 5 दहाई 4 इकाई   | = | 45 | 54 |
| (ii) 4 दहाई 3 इकाई  | = | 34 | 43 |
| (iii) 7 दहाई 6 इकाई | = | 76 | 67 |
| (iv) 8 दहाई 4 इकाई  | = | 84 | 48 |

3. पैटर्न समझकर आगे के दो चित्र बनाइए :-

5



4. रेखांकित अंक का स्थानीय मान लिखें :-

5

संख्या

स्थानीय मान

18

-----

54

-----

65

-----

86

-----

5. मिलान कीजिए-

5

(i)  $27 + 5$

(ii)  $17 - 1$

(iii)  $22 + 22$

(iv)  $23 - 13$

6. दी गई संख्या से उल्टी गिनती लिखें :-

5

7

10

13

15

7.. जोड़े :-

10

(i)  $38$

$+ 10$

(ii)  $52$

$+16$

(iii)  $22$

$+ 37$

(iv)  $44$

$+44$

(v)  $55$

$+44$

8.. घटायें :-

10

(i)  $54$

$- 13$

(ii)  $65$

$- 15$

(iii)  $85$

$-14$

(iv)  $69$

$-18$

(v)  $68$

$-37$